

Prof. Dr. T. Härder  
Fachbereich Informatik  
AG Datenbanken und Informationssysteme  
Universität Kaiserslautern

## ***Übungsblatt 1***

für die freiwillige Übung

**Unterlagen zur Vorlesung:** „[www.dvs.informatik.uni-kl.de/courses/DBSREAL/](http://www.dvs.informatik.uni-kl.de/courses/DBSREAL/)“

### **Aufgabe 1: Der Transaktionsbegriff**

Was ist eine Transaktion? Was sind ihre wesentlichen Eigenschaften?

Beurteilen Sie anschließend folgende Aussagen oder Fragen unter ACID-Gesichtspunkten:

1. „Mein Transaktionsprogramm wurde abgebrochen, und nun ist meine Datenbank zerschossen.“
2. „Leider wurde ihre erfolgreich abgeschlossene Transaktion zurückgesetzt, da das Datenbanksystem abgestürzt ist.“
3. „Seit dem Abort meiner Transaktion sind deren Änderungen überhaupt nicht mehr vorhanden!“
4. „Eine andere Transaktion hat Änderungen meiner Transaktion überschrieben. Darf ich jetzt meine Transaktion überhaupt noch beenden, oder muß ich sie abbrechen?“
5. „Nachdem diese mysteriöse Transaktion *M* gelaufen ist, kann keine weitere Transaktion mehr laufen, da sie – trotz erfolgreichem Abschluß – die Datenbank zerstört hat.“
6. „Die Bank mußte leider feststellen, daß Geld ausgezahlt wurde, obwohl die Überweisungs-transaktion abgebrochen wurde.“

### **Aufgabe 2: Function Request Shipping**

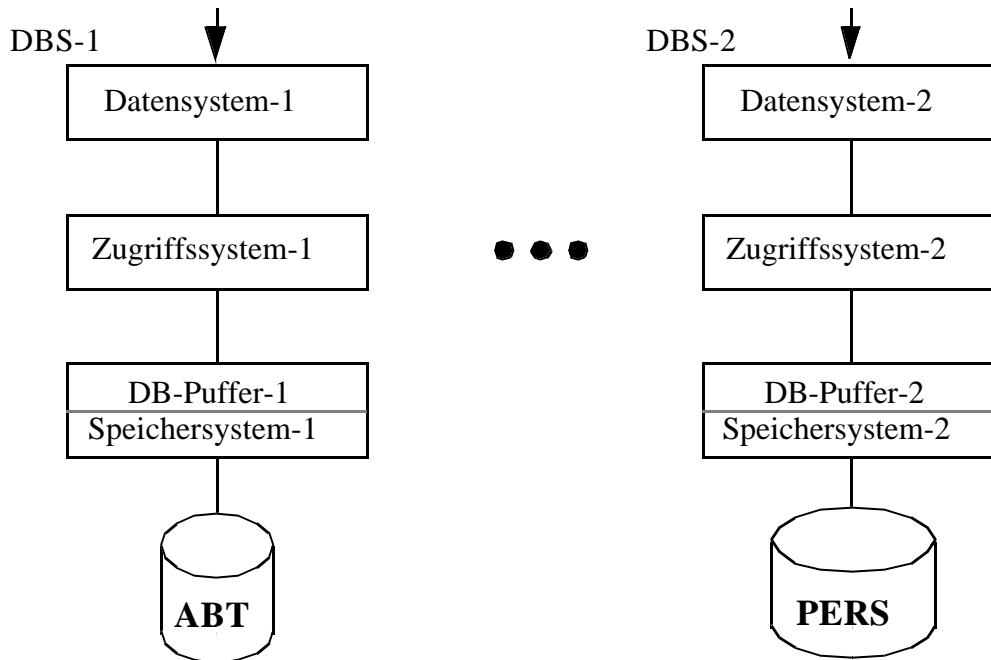
141m

Gehen Sie von der Verteilung einer „PERS – ABT“- Datenbank auf zwei Rechner aus. Welche Kommunikationshäufigkeit und welches Kommunikationsvolumen (Anfragen und Antworten) ergibt sich bei *Function Request Shipping* auf den Ebenen Datensystem, Zugriffssystem und Speichersystem (DB-Puffer), wenn folgende Zuordnung von Anfragen zu Rechnern erfolgt?

Welche Anforderungen werden auf den einzelnen Ebenen verschickt?

```
SELECT COUNT ( * )
FROM PERS
WHERE ANR = 'K55' AND
      BERUF = 'SYSPROG'
```

```
SELECT *
FROM PERS P, ABT A
WHERE P.ANR = A.ANR
```



**Annahmen:** PERS-Datei habe  $10^6$  Seiten  
 ABT-Datei habe  $10^4$  Seiten  
 PERS-Relation habe  $10^7$  Tupel  
 ABT-Relation habe  $5 \cdot 10^4$  Tupel  
 P.ANR = 'K55' AND P.BERUF = 'SYSPROG': 25 Sätze in PERS

### Aufgabe 3: Blockadressierung auf externen Speicher

184

Zur Unterstützung der sequentiellen Verarbeitung werden die Blöcke auf einer Spur nicht sequentiell, sondern versetzt angeordnet, so daß während einer Umdrehung der Platte mehrere Blöcke sequentiell gelesen werden können. Eine Spur auf der Platte bestehe aus  $m = 25$  Slots mit je 4 KBytes. Jeder Slot nimmt einen Block auf.

- Wie werden Blöcke bei einem Versetzungsmaß  $I$  von 1, 2, 3, 4, 6, 7, 8 oder 9 auf einer Spur abgelegt?
- Wieviele Umdrehungen sind erforderlich, um die  $m$  Blöcke in ihrer logischen Reihenfolge (sequentiell) zu lesen?
- Welche Vor-/Nachteile ergeben sich beim zufälligen Lesen einzelner Blöcke?

**Aufgabe 4: Zugriffsaufwand bei Dateien**

Gegeben sei folgende SQL-Anfrage:

```
SELECT *
FROM PERS
WHERE PNR = '123456'
```

Folgende Annahmen sollen gelten:

Die Relation PERS sei in Datei D1 abgelegt. Diese Datei bestehe aus  $10^5$  Seiten.

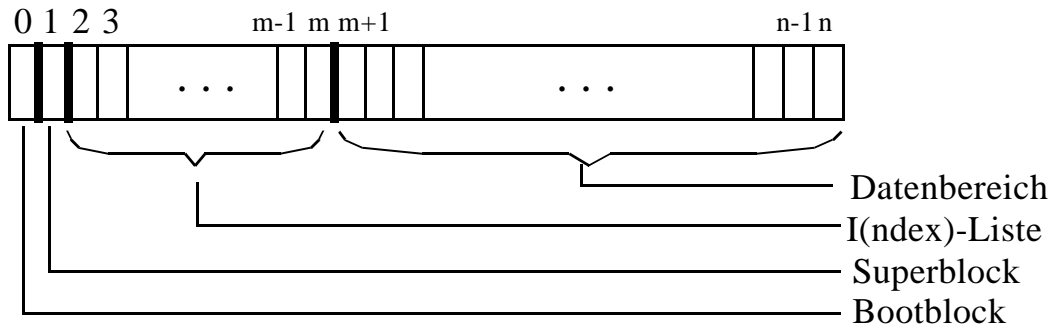
Für das Attribut PNR in PERS sei ein Index IPERS (PNR) als B\*-Baum definiert. Dieser B\*-Baum mit  $h^*=3$  sei in der Datei D2 abgelegt, die aus  $10^6$  Seiten bestehe. Die Blätter des B\*-Baumes enthalten die Seitennummern  $P_i$  in der Datei D1, in der sich die zugehörigen PERS-Sätze befinden.

Wieviele (externe) Seitenzugriffe sind für D1 und D2 zur Beantwortung der SQL-Anfrage notwendig bei:

- a) dynamischer Extent-Zuordnung
- b) dynamischer Blockzuordnung (Vektor)
- c) dynamischer Blockzuordnung (UNIX-Dateisystem):

**Kurzinfo: Das Dateisystem in UNIX**

- Prinzipieller Aufbau (zur Organisation von Plattenspeicher)

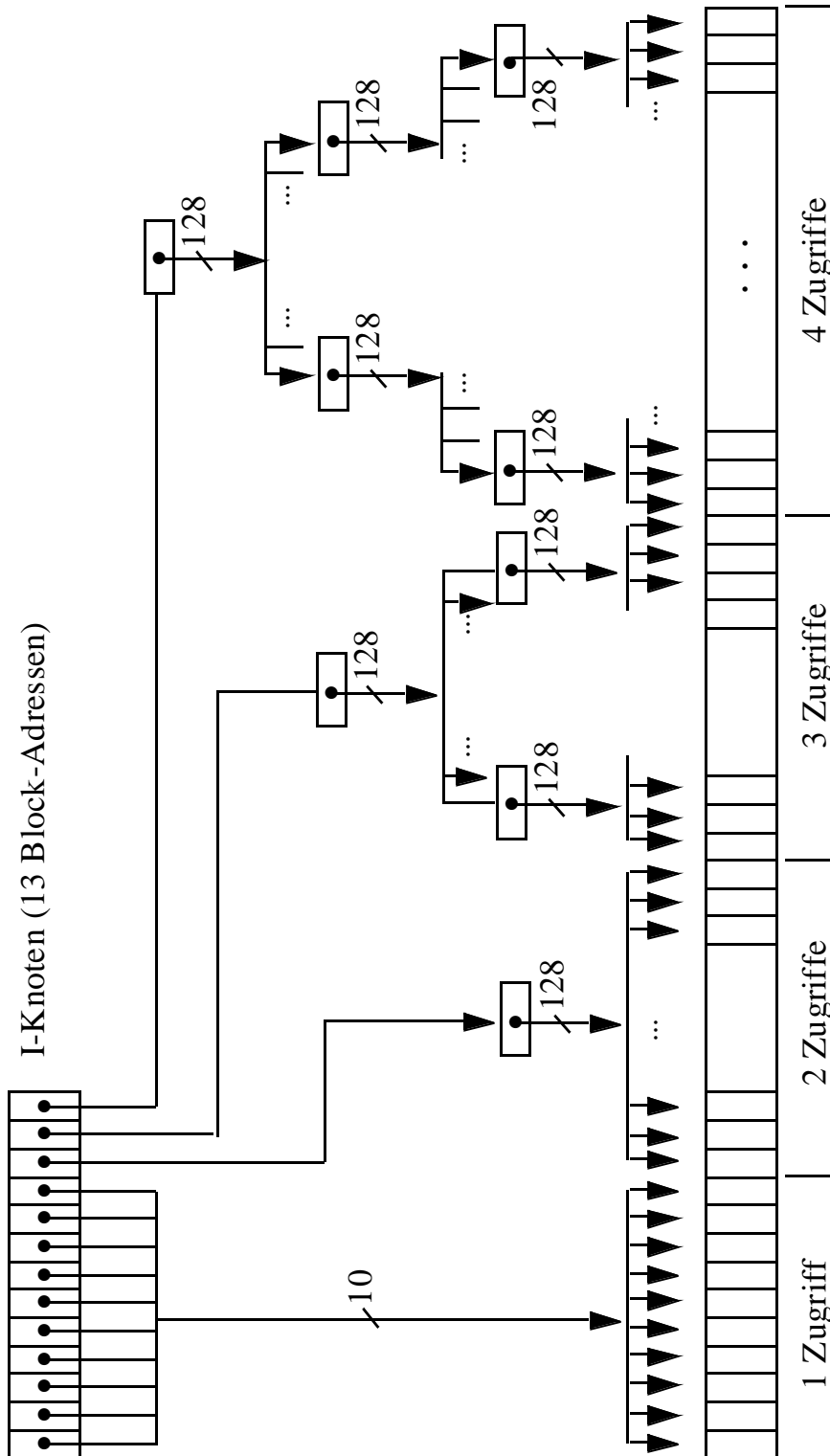


- Wichtige Beschreibungsaspekte

Directory-Einträge ordnen dem Datei-Namen einen Index  $I$  ( $1 \leq I \leq m-1$ ) zu. Jeder Knoten der I-Liste enthält folgende Informationen:

- a. Identifikation des Datei-Eigentümers
- b. Schutzbits
- c. Adressen von 13 physischen Blöcken
- d. Größe der Datei in Bytes
- e. Zeitpunkt der Erstellung, letzten Referenz, letzten Modifikation
- f. Anzahl der Verweise auf die Datei
- g. Art der Datei

### Speicherzuordnung im UNIX-Dateisystem



Die Dateiblöcke der untersten Ebene sind nur logisch zusammenhängend